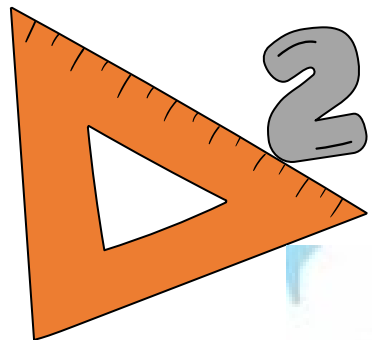


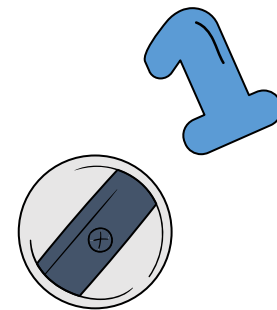

Toán

KHỞI ĐỘNG





KHỞI ĐỘNG







Đặt tính rồi tính

$$7\ 318 + 3\ 191$$

$$\begin{array}{r} 7\ 318 \\ + 3\ 191 \\ \hline 10\ 509 \end{array}$$

$$83\ 500 - 28\ 150$$

$$\begin{array}{r} 83\ 500 \\ - 28\ 150 \\ \hline 55\ 350 \end{array}$$

$$681 + 14\ 609$$

$$\begin{array}{r} 681 \\ + 14\ 609 \\ \hline 15\ 290 \end{array}$$

1

Đặt tính rồi tính

$$172 \times 4$$

$$\begin{array}{r} 172 \\ \times 4 \\ \hline 688 \end{array}$$

$$307 \times 15$$

$$\begin{array}{r} 307 \\ \times 15 \\ \hline 1535 \\ 307 \\ \hline 4605 \end{array}$$


$$4\ 488 : 34$$

$$\begin{array}{r|l} 4\ 488 & 34 \\ \hline 108 & 132 \\ 068 & \\ 00 & \end{array}$$




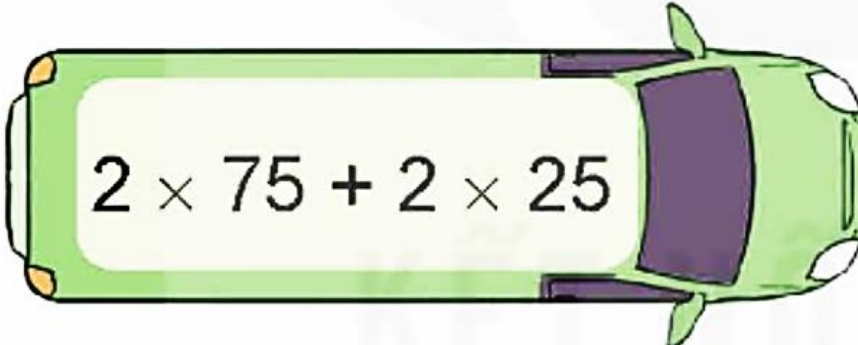
2

Không thực hiện phép tính, hãy tìm các cặp biểu thức có giá trị bằng nhau.


$$483 + 5\,109$$



$$871 + 500 + 500$$


$$999 \times 45$$


$$2 \times 75 + 2 \times 25$$


$$45 \times 999$$


$$2 \times (75 + 25)$$


$$5\,109 + 483$$

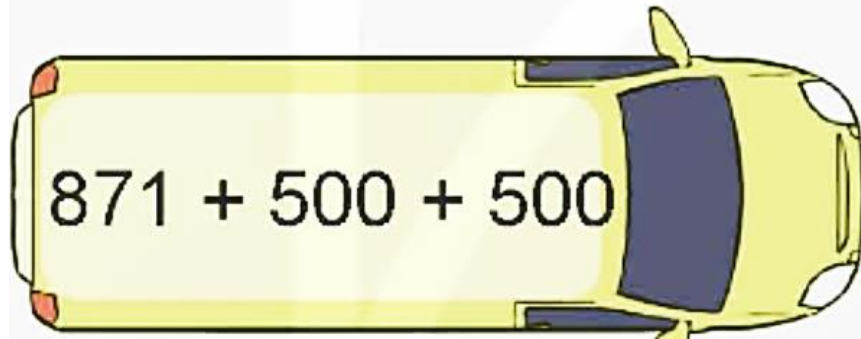

$$871 + (500 + 500)$$



$483 + 5\,109$



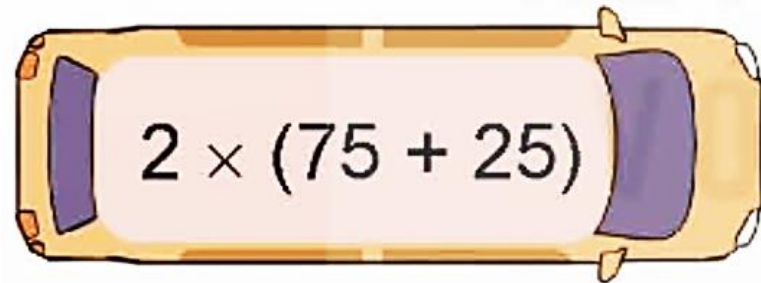
$5\,109 + 483$



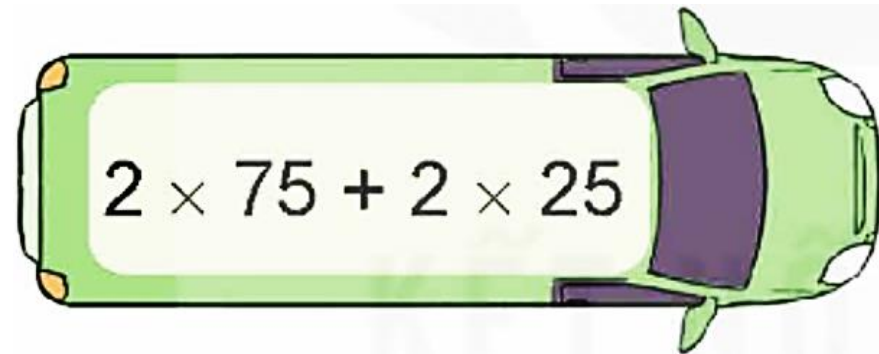
$871 + 500 + 500$




$871 + (500 + 500)$



$2 \times (75 + 25)$



$2 \times 75 + 2 \times 25$



45×999



999×45



Vận dụng, trải nghiệm



Mai mua hai gói bim bim hết số tiền là 18 000 đồng. Trong đó, gói bim bim của có giá hơn gói bim bim mực là 4 000 đồng. Tính giá tiền mỗi gói bim bim Mai đã mua.

Bài giải

Giá tiền bim bim của là:

$$(18\ 000 + 4\ 000) : 2 = 11\ 000 \text{ (đồng)}$$

Giá tiền bim bim mực là:

$$11\ 000 - 4\ 000 = 7\ 000 \text{ (đồng)}$$

Đáp số: Bim bim của: 11 000 đồng;

Bim bim mực 7 000 đồng

4

Tính tổng tất cả các số trong hình bên bằng cách thuận tiện.

1 000

1 000


1 000

1 000

1 000

1 000

6 000



400	500	300
600	280	510
100	500	490
900	720	700



TIẾT HỌC KẾT THÚC!

Chúc các em vui, khỏe, học tập tốt!